

ВСЕРОССИЙСКАЯ ОЛИМПИАДА ШКОЛЬНИКОВ ПО ОСНОВАМ
БЕЗОПАСНОСТИ ЖИЗНЕДЕЯТЕЛЬНОСТИ
школьный этап (теоретический тур)
возрастная группа (5-6 классы)

Уважаемый участник олимпиады!

Вам предстоит выполнить теоретические (письменные) и тестовые задания. Время выполнения заданий теоретического тура 45 минут.

Выполнение теоретических (письменных) заданий целесообразно организовать следующим образом:

- не спеша, внимательно прочитайте задание и определите, наиболее верный и полный ответ;
- отвечая на теоретический вопрос, обдумайте и сформулируйте конкретный ответ только на поставленный вопрос;
- если Вы отвечаете на задание, связанное с заполнением таблицы или схемы, не старайтесь детализировать информацию, вписывайте только те сведения или данные, которые указаны в вопросе;
- особое внимание обратите на задания, в выполнении которых требуется выразить Ваше мнение с учетом анализа ситуации или поставленной проблемы. Внимательно и вдумчиво определите смысл вопроса и логику ответа (последовательность и точность изложения). Отвечая на вопрос, предлагайте свой вариант решения проблемы, при этом ответ должен быть кратким, но содержать необходимую информацию;
- после выполнения всех предложенных заданий еще раз удостоверьтесь в правильности выбранных Вами ответов и решений.

Выполнение тестовых заданий целесообразно организовать следующим образом:

- не спеша, внимательно прочитайте тестовое задание;
- определите, какой из предложенных вариантов ответа наиболее верный и полный;
- напишите букву, соответствующую выбранному Вами ответу;
- продолжайте, таким образом, работу до завершения выполнения тестовых заданий;
- после выполнения всех предложенных заданий еще раз удостоверьтесь в правильности ваших ответов;
- если потребуется корректировка выбранного Вами варианта ответа, то неправильный вариант ответа зачеркните крестиком, и рядом напишите новый.

Предупреждаем Вас, что:

– при оценке тестовых заданий, где необходимо определить один правильный ответ, 0 баллов выставляется за неверный ответ и в случае, если участником отмечены несколько ответов (в том числе правильный), или все ответы;

– при оценке тестовых заданий, где необходимо определить все правильные ответы, 0 баллов выставляется, если участником отмечены неверные ответы, большее количество ответов, чем предусмотрено в задании (в том числе правильные ответы) или все ответы.

Задание теоретического тура считается выполненным, если Вы вовремя сдаете его членам жюри. **Максимальная оценка – 200 баллов.**

Задания школьного этапа Всероссийской олимпиады школьников

по ОБЖ в 2022 - 2023 учебном году

5-6 класс

ТЕСТОВЫЕ

ЗАДАНИЯ

Определите один правильный ответ

1. Что из перечисленного является причиной искривления позвоночника?

- а) ношение обуви на плоской ровной подошвеб) увлечение подвижными играми
3 + в) неправильная посадка за партой или столом

2. По какому номеру телефона есть возможность вызвать скорую медицинскую помощь даже при отсутствии денежных средств на вашем счёте, при заблокированной SIM-карте и при отсутствии SIM-карты телефона?

- а) 103
б) 102
в) 104
г) 112

3. День солидарности в борьбе с терроризмом отмечается

- а) 3 сентября
б) 2 сентября
в) 8 сентября
г) 1 сентября

4. Разъясните содержание сигнала «Внимание всем!»

- а) предупреждает население о непосредственной угрозе нападения противника
б) подаётся с целью предупредить население о необходимости принять меры защиты от радиоактивных веществ
3 + в) подаётся с целью предупредить население об аварии, катастрофе, стихийном бедствии
г) извещает население о том, что непосредственной угрозы аварии, катастрофы, стихийного бедствия больше нет

5. Каким способом можно определить стороны света ночью?

- 3 + а) по часам б) по луне в) по звуку г) по Полярной звезде

6. К ядовитым растениям относятся

- 3 + а) тмин, черемша б) зверобой, кровохлебка в) белена, волчье лыко

7. Самым простым способом обеззараживания воды в полевых условиях является

- 3 + а) очистка через фильтр из песка и

материи кипячение воды

в) очистка через фильтр из подручных средств

8. В ненастную сырую погоду вы едете в троллейбусе. Неожиданно подул сильный ветер и произошёл обрыв контактного провода, который упал на крышу троллейбуса. Водитель открыл двери для выхода пассажиров. Как Вы будете покидать троллейбус?

а) через окно

б) будете выходить через двери по ступенькам

3 + в) будете покидать троллейбус через дверь только прыжком, так чтобы не поразило током - без одновременного касания троллейбуса и земли

9. Порошковый тип огнетушителя соответствует аббревиатуре

3 + а) ОП

б) ОУ

в) ОВП

10. К какому виду стихийных бедствий можно отнести оползни, сели, обвалы, землетрясения?

3 + а) геологические

б) биологические

в) гидрологические

24

Определите все правильные ответы

11. Какие из перечисленных требований необходимо соблюдать для адаптации человека при прибытии в новое климатическое и географическое место?

а) не есть овощи и фрукты

б) не употреблять местную экзотическую

пищев) носить только местную одежду

г) не следует подвергать себя излишним нагрузкам

д) есть больше местной пищи, чтобы быстрее привыкнуть

12. При каких условиях телевизор и компьютер могут представлять опасность для здоровья человека?

а) в ночное время при использовании настольной лампы

4 + б) при многочасовом сидении у работающего телевизора и включенного компьютера

в) при использовании в помещении яркого дневного освещения

г) при работе за компьютером с одновременным просмотром телевизора

13. Каковы основные причины возникновения опасных ситуаций техногенного характера?

6 + а) неосторожное обращение с техникой

б) нарушение правил поведения в природных условиях

в) неосторожное обращение с бытовыми приборами

г) нарушение правил общественной безопасности

д) природные негативные воздействия на промышленные объекты

14. Какие из перечисленных насекомых представляют опасность для человека в природных условиях?

- а) клещ б) скарабей в) коконопряд г) оса
д) шмель е) майский жук ё) кузнечик оранжевый ж) стрекоза
з) шершень

15. Основными правилами поведения пассажиров, находящихся в салоне воздушного судна являются:

- а) заняв место в салоне перевести спинку кресла в горизонтальное положение
б) внимательно выслушать информацию стюардессы о правилах поведения и средствах безопасности на борту воздушного судна
в) размещать негабаритные вещи на полке, расположенной над креслом
г) при опасных для жизни ситуациях сохранять спокойствие, выполнять все указания экипажа
д) следить, чтобы при взлете и посадке ремень безопасности был плотно натянута у бедер
е) тяжелые и громоздкие вещи размещать на полках над креслами, чтобы не мешали
ё) в случае разгерметизации пристегнуть ремни и подготовиться к экстренному снижению

16. Какие основные показатели определяют состояние погоды?

- а) температура б) гроза в) ветер г) атмосферное давление
д) гололед е) осадки ё) циклон

17. Что запрещается делать при разведении костра?

- а) разводить костер возле водоемов е) использовать для костра сухую траву
б) разводить костер на торфяных болотах ё) использовать для костра живые деревья
в) разводить костер на снегу ж) использовать для костра мох
г) разводить костер близ деревьев з) оставлять без присмотра горящий костер
д) использовать для костра сухой растительности

18. Если вы заблудились в лесу, очень важно в первый момент:

- а) подавить свое чувство страха
б) действовать, не рассуждая, пытаясь вернуться в исходный пункт
в) в течение нескольких минут отдохнуть и успокоиться
г) проверить наличие снаряжения и имущества
д) оценить ситуацию

19. Каковы основные поражающие факторы взрыва?

- а) волна прорыва б) ударная волна в) сильная загазованность местности
г) осколочные поля д) громкий звук

20. Признаками приближающегося землетрясения могут быть следующие явления:

- а) резкое изменение погодных условий
- б) самовозгорание горючих веществ и материалов
- в) запах газа в районах, где раньше этого не отмечалось
- г) вспышки в виде рассеянного света зарниц

Максимум за задания 90 баллов


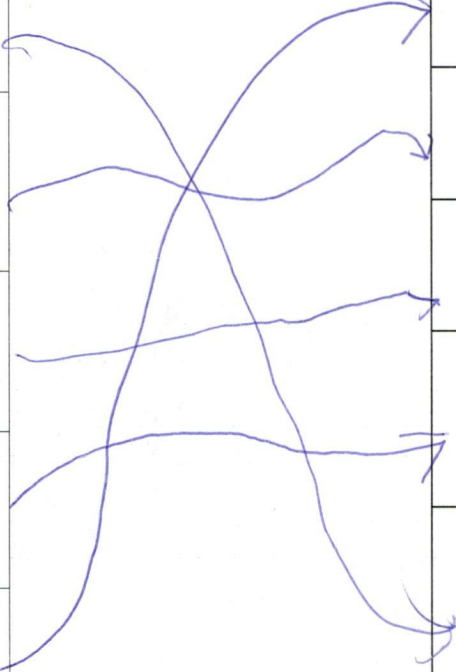




48

ТЕОРЕТИКО-МЕТОДИЧЕСКИЕ ЗАДАНИЯ

Задание 1

Укажите стрелками соответствие между изображением дорожного знака и его названием

70

		Опасный поворот
		Велосипедная дорожка или полоса
		Движение пешеходов запрещено
		Пешеходная и велосипедная дорожка с совмещенным движением
		Пешеходный переход

40

Максимум за задания 40 баллов

Задание 2

Находясь в своей квартире, Вы обнаружили пожар на кухне (возгорание произошло от включенной электроплиты). Опишите безопасные действия в данных условиях. Ответ:

12

1. Намочить салфетку и лечь на пол ~~вскрыть~~
2. Выключить плиту
3. Взять огнетушитель или полить водой
4. _____

3

8

5. _____

Максимум за задания 30 баллов

Задание 3

Опишите правила поведения из пяти пунктов при обнаружении подозрительной вещи (предмета).

8 / 4 4

1. Не трогать его.
2. Нужно позвонить или сказать кому-то
3. Взрослый человек выкинет
4. _____
5. _____

Максимум за задания 40 баллов

Задание 4

Ребята играли на спортивной площадке в футбол. Один из игроков после удара ногой по мячу почувствовал резкую боль в голеностопном суставе. В месте повреждения отмечается отёк, при движении в суставе – болезненность.

Опишите мероприятия первой помощи

5

- 1) Посадить на лавочку.
 - 2) Я спросить сильно ли упирает ногу ищет.
- _____
- _____
- _____
- _____

Максимум за задание 20 баллов